


الجاد في الرياضيات

مذكرة تأسيس الجزء الأول

الاسم /





ثَمَانِيَّة



سَبْعَةٌ



عَشْرَةٌ



تِسْعَةٌ


هيا يا شاطر أكتب الرقم امام كل صورة

.....




اثنان

.....




واحد

.....



صفر

.....



خمسة

.....



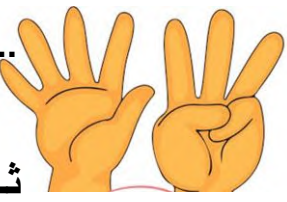
أربعة

.....




ثلاثة

.....




ثمانية

.....



سبعة

.....



ستة

.....



عشرة

.....




تسعة

هيا يا بطل أكمل الأرقام

- (١) ٩ ٧ ٥ ٣ ١
- (٢) ١٠ ٨ ٦ ٤ ٢ ١
- (٣) ١٠ ٧ ٤ ١
- (٤) ٢ ٤ ٦ ٨ ١٠
- (٥) ١ ٤ ٧ ١٠

عد أكتب العدد تحت كل صورة




.....




.....



.....




.....



.....




.....



.....



.....



.....

أرسم تحت كل عدد

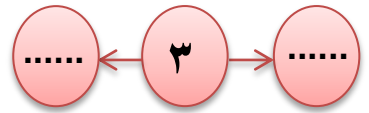
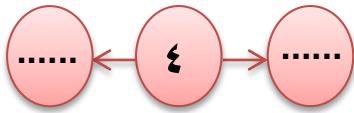
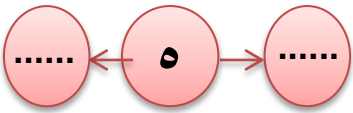
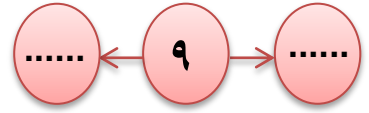
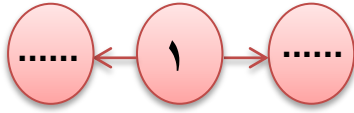
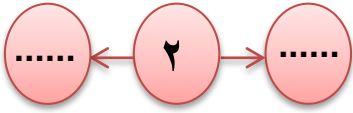
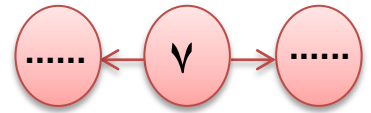
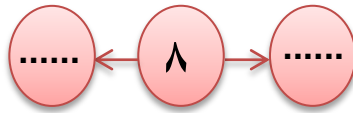
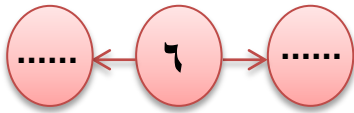
○ أرسم ٣ دوائر

★ أرسم ٧ نجوم


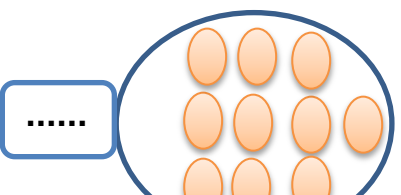

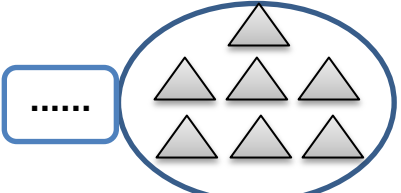
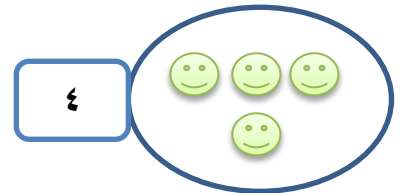

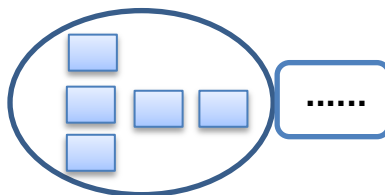
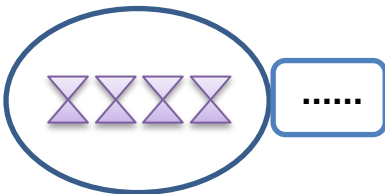
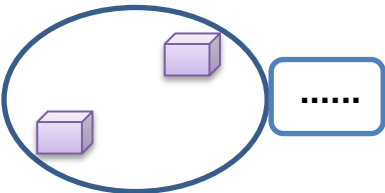
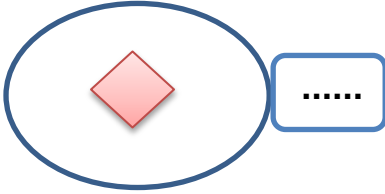
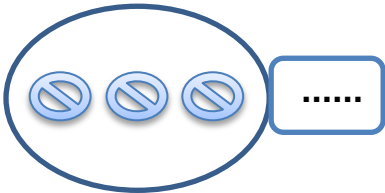
△ أرسم ٦ مثلثات

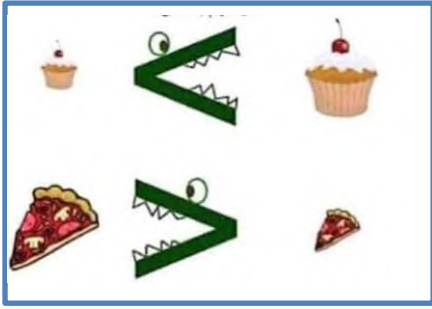
□ أرسم ٥ مربعات

أكمل كما بالمثل













عد ثم صل بالعدد المناسب





عد ثم ضع علامة < ، > ، =



ضع علامة = ، > ، <

٢ ○ ٣

١ ○ ٦

٢ ○ ٧

٩ ○ ٩

٥ ○ ٥

٠ ○ ١

٣ ○ ٦

٢ ○ ٨

٩ ○ ٣

٧ ○ ٨

٤ ○ ١

٩ ○ ٥

٧ ○ ٢

٥ ○ ٢

٨ ○ ٢

٦ ○ ٧

أكمل ما يأتي

٩ ٧ ٥ ٣ ١

١٠ ٨ ٦ ٤ ٢

١٠ ٧ ٤ ١

١ ٥ ٩ ١٠

٢ ٤ ٦ ٨ ١٠


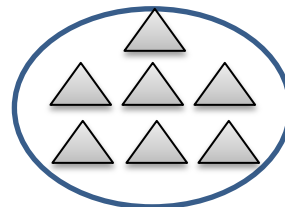

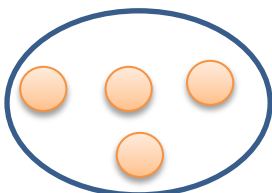
صل كل عدد بما يناسبه

٥

٧

٨

٤





١٣ ثلاثة عشر

١٢ اثنا عشر

١١ أحد عشر

١٦ ستة عشر

١٥ خمسة عشر

١٤ أربعة عشر

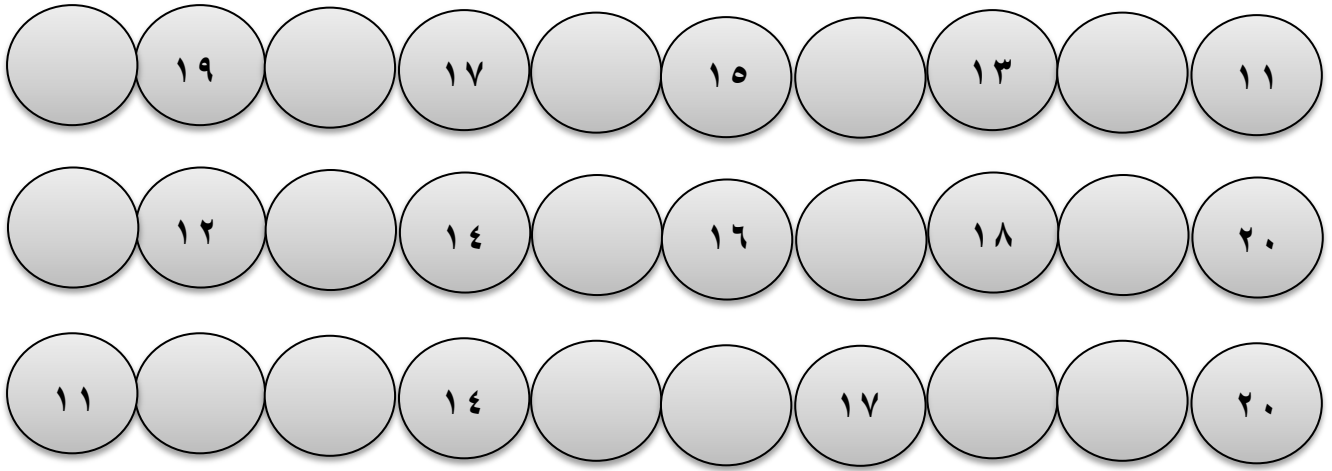
١٩ تسعة عشر

١٨ ثمانية عشر

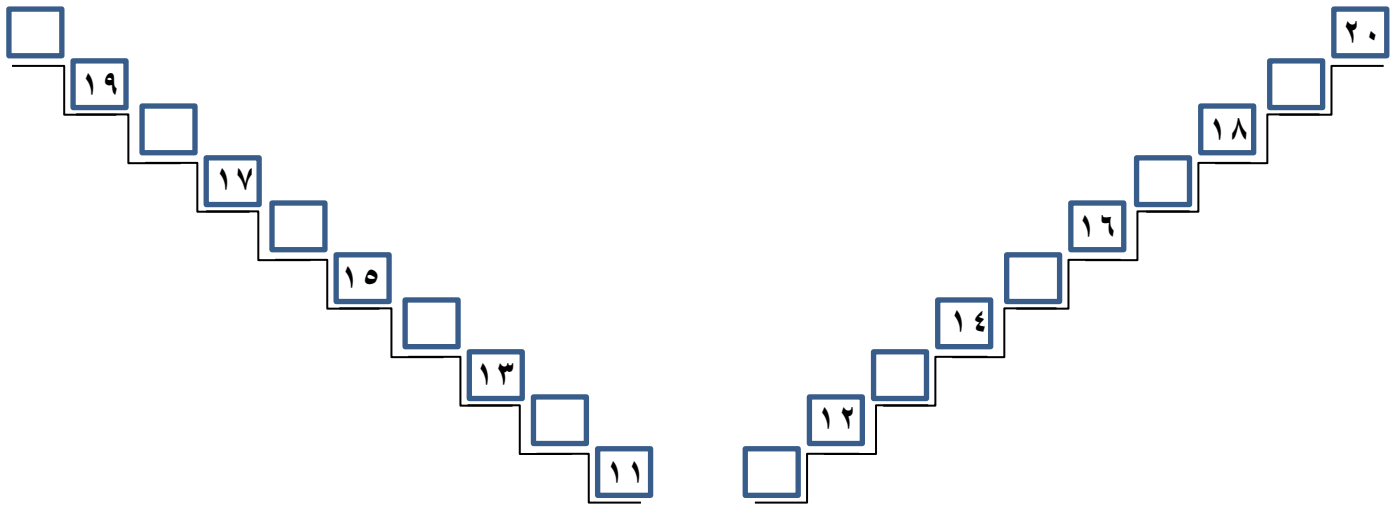
١٧ سبعة عشر

٢٠ عشرون

أكمل ما يأتي



أكمل المخطط التالي



لون الشيء الأصفر



لون الأصفر





الترتيب التصاعدي

الترتيب التصاعدي

الترتيب التصاعدي

من الأصغر إلى الأكبر

الترتيب التنازلي

الترتيب التنازلي

الترتيب التنازلي

من الأكبر إلى الأصغر

أكمل بالترتيب التنازلي

١١

١٠

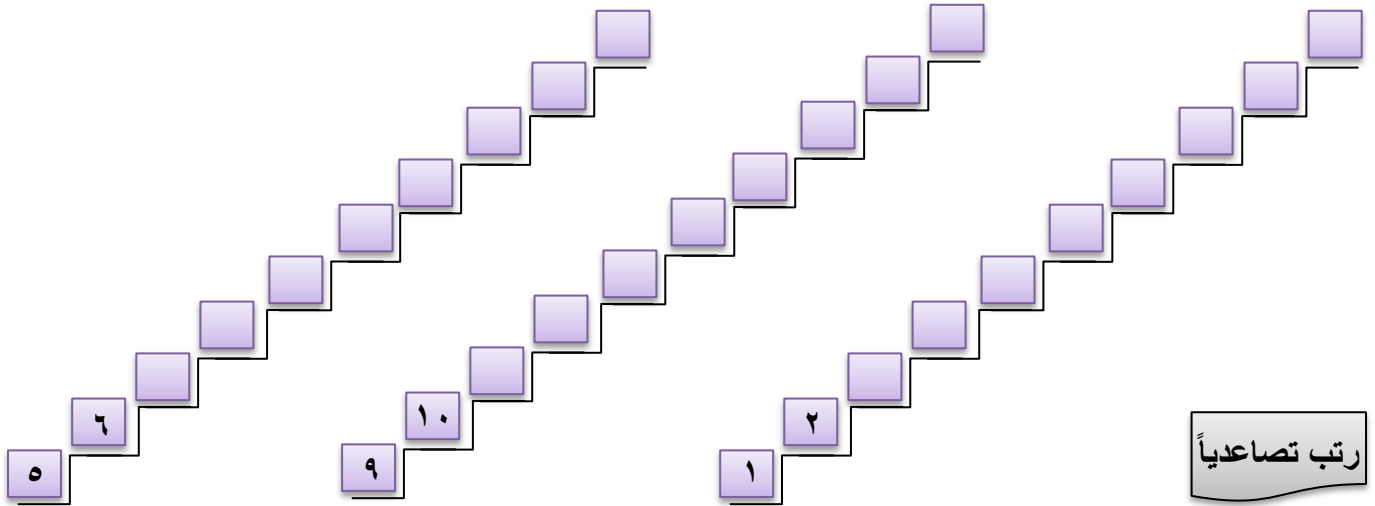
٢٠

رتب تنازلياً

..... = ٩ ٨ ٣ ٦ ١٠

..... = ١٢ ١٧ ٤ ١٥ ٥

أكمل بالترتيب التصاعدي



رتب تصاعدياً

.....	=	٢	٧	٨	٦	١٢
.....	=	١١	٥	٩	١	٣

رتب تصاعدياً

الترتيب ، ، ، ، ،	٥ ، ٣ ، ٩ ، ٢ ، ٦ ، ٧ ✓
الترتيب ، ، ، ، ،	١ ، ٧ ، ١٠ ، ٨ ، ٠ ، ٤ ✓
الترتيب ، ، ، ، ،	٠ ، ٥ ، ٦ ، ١٥ ، ١١ ، ٢ ✓
الترتيب ، ، ، ، ،	١٠ ، ١٤ ، ١٢ ، ١٣ ، ١٥ ، ١١ ✓
الترتيب ، ، ، ، ،	٢ ، ٥ ، ٤ ، ٦ ، ٣ ، ٧ ✓

رتب تنازلياً

الترتيب ، ، ، ، ،	٥ ، ٣ ، ٩ ، ٢ ، ٦ ، ٧ ✓
الترتيب ، ، ، ، ،	٣ ، ٥ ، ١ ، ٥ ، ٠ ، ٤ ✓
الترتيب ، ، ، ، ،	٧ ، ١٠ ، ٨ ، ٩ ، ١١ ، ٦ ✓
الترتيب ، ، ، ، ،	١٠ ، ١٤ ، ١٢ ، ١٣ ، ١٥ ، ١١ ✓